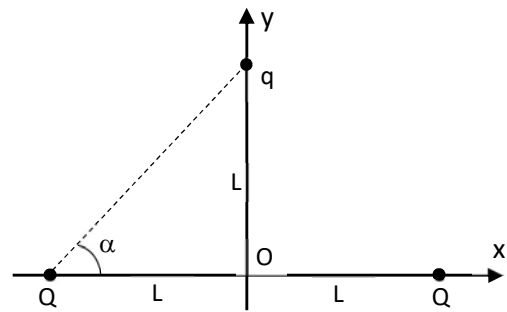


Esercizio n.1 [10 punti]

Due cariche elettriche uguali  $Q > 0$  sono fissate sull'asse x a distanza  $2L$ . Una terza carica  $q < 0$  è posta sull'asse y a distanza  $L$  dall'origine [quindi inizialmente  $\alpha = 45^\circ$ , vedi figura]. A) Trovare il punto sull'asse y in cui la forza cui è sottoposta la carica  $q$  è massima. B) Se la carica  $q$  viene lasciata libera di muoversi con velocità iniziale nulla, calcolare il lavoro fatto dal campo Elettrico per portare questa carica dal punto  $y=L$  al punto  $y=0$ .



*Nota: la posizione della carica q può essere individuata dall'angolo  $\alpha$  oppure dalla coordinata y. Si può scegliere una delle due come variabile di posizione, ed ovviamente il risultato finale sarà lo stesso.*

**Dati:**  $L = 10 \text{ cm}$  ;  $Q = 1 \text{ nC}$  ;  $q = -1/9 \text{ nC}$

**Soluzione**

Le due forze che agiscono su  $q$  sono dirette secondo le rette  $qQ$ . Le componenti x si annullano, rimangono le due componenti y, uguali e dirette verso il basso.

Si ha  $|F_Q| = k \frac{qQ}{R^2}$  dove  $R = L/\cos \alpha$ , questa, proiettata lungo la y e moltiplicata per 2 da la componente y della Forza totale:

$$|F_{Q,Q}| = 2k \frac{qQ}{L^2} \cos^2 \alpha \cdot \sin \alpha = \beta \cdot \cos^2 \alpha \cdot \sin \alpha ; \text{ essendo } \beta = 2k \frac{qQ}{L^2} . \text{ Il massimo si trova imponendo che } \frac{\partial F}{\partial \alpha} = 0.$$

$$\frac{\partial F}{\partial \alpha} = \beta \cos \alpha (1 - 3\sin^2 \alpha) = 0. \text{ Una soluzione si ha per } \cos \alpha = 0, \text{ quando } q \text{ va all'infinito...è chiaramente un minimo.}$$

La seconda soluzione è:  $(1 - 3\sin^2 \alpha) = 0$  che fornisce  $\sin \alpha = \frac{1}{\sqrt{3}}$  cui corrisponde un valore  $y(\max) = L \tan \alpha = L \cdot 0,7 = 7 \text{ cm}$  (vedi valori forniti per gli angoli).

Il lavoro fatto può essere calcolato dal potenziale:  $L = q \cdot \Delta V = q(V_{\text{fin}} - V_{\text{in}}) = q(V(0) - V(L))$  essendo:  $V(0) = \frac{2kQ}{L}$  ;  $V(L) = \frac{2kQ}{L\sqrt{2}}$

$$\text{Quindi } L = \frac{2kqQ}{L} \left(1 - \frac{1}{\sqrt{2}}\right) \cong 4,2 \text{ nJ}$$

$$\text{Il lavoro si può calcolare anche scrivendo } L = \int_L^0 \vec{F} \cdot \vec{dy} = -\beta \int_L^0 \cos^2 \alpha \sin \alpha \, dy = -\beta L \int_{\alpha(L)}^0 \sin \alpha \, d\alpha = \frac{\beta L}{2} (2 - \sqrt{2}) = 4,2 \text{ nJ}$$

Se si usa la variabile y:  $F_y(\text{tot}) = 2kqQ \frac{y}{(L^2 + y^2)^{3/2}}$  : il massimo si ha per  $\frac{\partial F}{\partial y} = 0 = L^2 - 2y^2$  da cui  $y(\max) = \frac{L}{\sqrt{2}}$

Analogamente, se si volesse calcolare il lavoro come  $L = \int_L^0 \vec{F} \cdot \vec{dy}$

$$\text{si avrebbe: } L = \int_L^0 \vec{F} \cdot \vec{dy} = -2kqQ \int_L^0 \frac{y \, dy}{(L^2 + y^2)^{3/2}} = -kqQ \int_{2L^2}^{L^2} \frac{d(L^2 + y^2)}{(L^2 + y^2)^{3/2}} = \frac{2kqQ}{L} \left(1 - \frac{1}{\sqrt{2}}\right) = \dots \text{ come sopra}$$

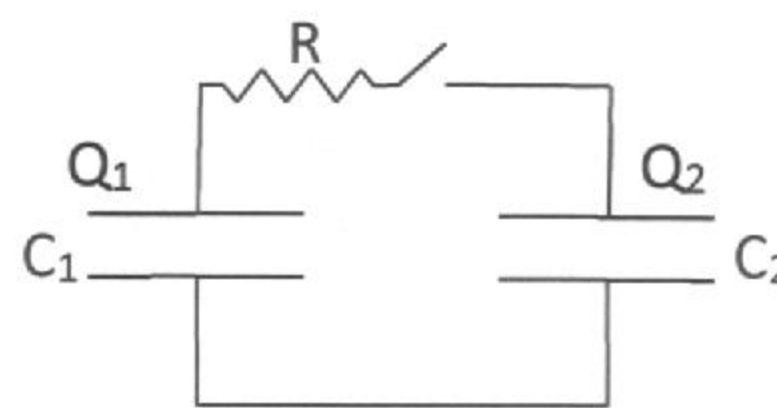
Valori numerici di alcune funzioni trigonometriche:

$$\sin \alpha = \frac{1}{\sqrt{3}} \Rightarrow \alpha \cong 35^\circ \Rightarrow \tan \alpha \cong 0,7 \quad ; \quad \cos \alpha = \frac{1}{\sqrt{3}} \Rightarrow \alpha \cong 55^\circ \Rightarrow \tan \alpha \cong 1,4$$

## Esercizio n.2 [10 punti]

Consideriamo due condensatori di capacità  $C_1$  e  $C_2$  inizialmente carichi con cariche  $Q_1$  e  $Q_2$  ed isolati [vedi figura]. Se l'interruttore viene chiuso, dopo un tempo sufficientemente lungo il sistema si porta all'equilibrio. Si chiede di calcolare il valore della d.d.p. finale ai capi dei due condensatori e la variazione dell'energia elettrostatica di tutto il sistema fra l'istante iniziale e quello finale.

Dati:  $C_1 = 1 \mu\text{F}$  ;  $C_2 = 2 \mu\text{F}$  ;  $Q_1 = Q_2 = 2 \text{ nC}$



Alla fine del processo, all'equilibrio, la d.d.p. ai capi delle due capacità sarà la stessa; le due capacità sono equivalenti al loro parallelo.

$$V_f = \frac{Q_f}{C_f} = \frac{Q_1 + Q_2}{C_1 + C_2} = \frac{4 \text{ nC}}{3 \mu\text{F}} = \frac{4}{3} 10^{-3} \text{ V} \quad \left[ \begin{array}{l} \text{La carica si} \\ \text{conserva} \end{array} \right]$$

Le energie sono:

$$\varepsilon_i = \frac{1}{2} \frac{Q_1^2}{C_1} + \frac{1}{2} \frac{Q_2^2}{C_2} = 3 \cdot 10^{-12} \text{ J}$$

$$\varepsilon_f = \frac{1}{2} C_f V_f^2 = \frac{1}{2} (C_1 + C_2) \frac{(Q_1 + Q_2)^2}{(C_1 + C_2)^2} = \frac{8}{3} 10^{-12} \text{ J}$$

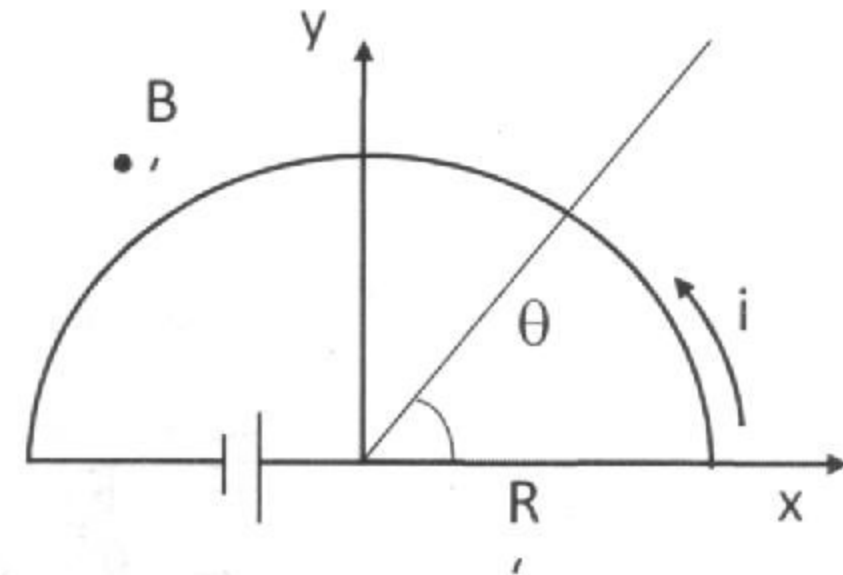
$$\text{da cui } \Delta \varepsilon = \varepsilon_f - \varepsilon_i = -\frac{1}{3} 10^{-12} \text{ J}$$

Il valore deve essere negativo perché una parte si sarà dissipata in R

Esercizio n.3 [10 punti]

Nel piano x,y è posto un circuito elettrico rigido semicircolare di raggio R chiuso da un diametro percorso da una corrente costante i in verso antiorario. Nello spazio è presente un campo B perpendicolare al piano x,y il cui valore dipende dall'angolo  $\theta$  (vedi figura):  $\vec{B}(\theta) = B_0 \sin \theta \hat{z}$ . Calcolare la forza totale, in modulo e in direzione, cui è sottoposto il circuito

Dati:  $i = 2 \text{ A}$  ;  $R = 10 \text{ cm}$  ;  $B_0 = \pi \text{ T}$ .

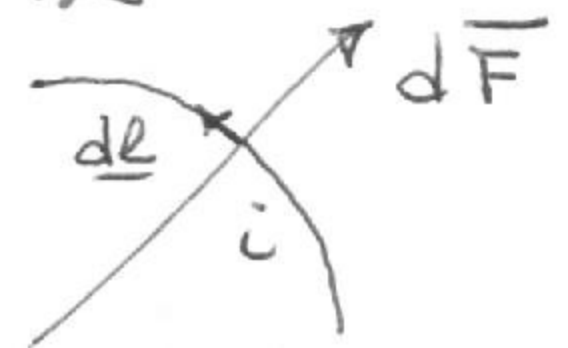


Sul diametro non si esercita

nessuna forza dato che  $\vec{B}(r=0) = 0$

Per ogni elemento dl della circonferenza si

esercita una forza  $d\vec{F} = i d\vec{l} \times \vec{B}$



$$[1] = i dl B(\theta) \hat{p} \text{ [coordinata radiale]}$$

La forza totale sarà 2 volte l'integrale di questa  $d\vec{F}$  proiettata lungo l'asse y  $dF_{\text{tot}} = 2 dF \sin \theta$

$$F_{\text{tot}} = 2 \int_{\text{quarto di circ.}} i B(\theta) \sin \theta dl \quad \text{se } dl = R d\theta$$

$$= 2 i B_0 \int_0^{\pi/2} \sin \theta \sin \theta R d\theta = 2 i B_0 R \int_0^{\pi/2} \sin^2 \theta d\theta$$

$$= 2 i B_0 R \left[ \frac{1}{2} (-\sin \theta \cos \theta + \theta) \right]_0^{\pi/2} = i B_0 R \frac{\pi}{2} = 2 \pi 0,1 \frac{\pi}{2} \approx 1 \text{ N}$$

Nota: Tutti i calcoli possono essere fatti con l'approssimazione del 10%, compresi i valori delle costanti fondamentali.

Integrali che potrebbero essere utili:  $\int \sin^2 x dx = \frac{1}{2} (-\sin x \cos x + x) + c$  ;  $\int \cos^2 x dx = \frac{1}{2} (\sin x \cos x + x) + c$

$$\sin \alpha = 1/\sqrt{3} \rightarrow \alpha = \quad \cos \alpha = 1/\sqrt{3} \rightarrow \alpha \approx 35^\circ \quad \text{tg } \alpha = 1/\sqrt{3} \rightarrow \alpha =$$